



SEDE LA HONDITA

MODULO

MATEMATICAS 4°

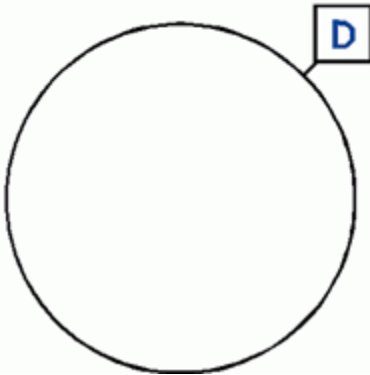
GUÍAS MATEMATICAS PARA EL GRADO CUARTO 4º
DOCENTE(S): BERTA INÉS SÁNCHEZ CARDONA



EJE TEMATICO	GUÍA #1: NUMEROS NATURALES <i>REPRESENTACIÓN DE CONJUNTOS.</i>
--------------	--

OBJETIVO(S)	<i>Representar relaciones entre conjuntos en diagramas de ven y llaves.</i>
-------------	---

EVALUACIÓN	El alumno estará en capacidad de representar diferentes conjuntos en diagramas de veen y en llaves.
------------	---

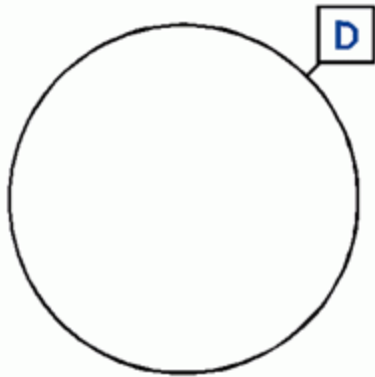
Representación de conjuntos.	<p><i>Los conjuntos se representan en diagramas de veen o en llaves.</i></p> <p><i>Los diagramas de veen son curvas cerradas dentro de las cuales se escriben o dibujan los elementos de un conjunto. Las llaves son paréntesis dentro de los cuales se escriben los elementos de un conjunto separados por comas.</i></p>  <p>Diagrama de veen</p> <p>D = { _____ } Llaves.</p>
------------------------------	--



ACTIVIDAD

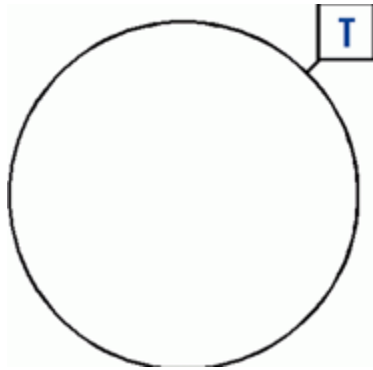
1. Dibuja en el diagrama de Venn los siguientes conjuntos.

a) Conjunto de animales domésticos.



$D = \{ \underline{\hspace{10em}} \}$

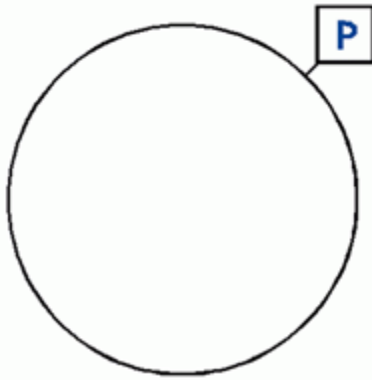
b) Conjunto de medios de transporte terrestre.



$T = \{ \underline{\hspace{10em}} \}$



c) Conjunto de nombres de países de América del Sur.



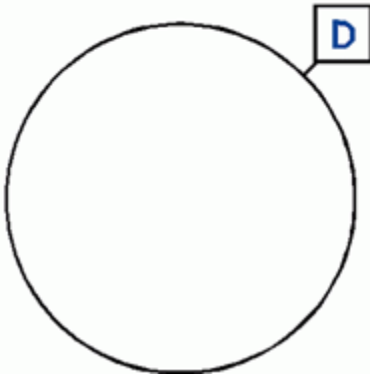
$P = \{ \underline{\hspace{10em}} \}$



EJE TEMATICO	GUÍA #2 NÚMEROS NATURALES: <i>REPRESENTACIÓN DE CONJUNTOS.</i>
--------------	--

OBJETIVO(S)	<i>Representar relaciones entre conjuntos en diagramas de ven y llaves.</i>
-------------	---

EVALUACIÓN	El alumno estará en capacidad de representar diferentes conjuntos en diagramas de veen y en llaves.
------------	---

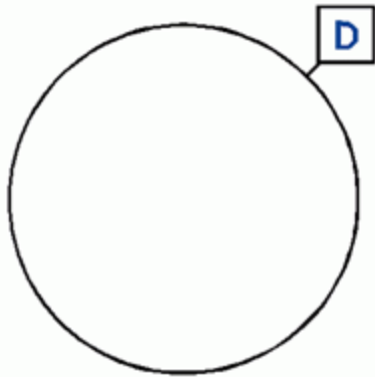
Representación de conjuntos.	<p><i>Los conjuntos se representan en diagramas de veen o en llaves.</i></p> <p><i>Los diagramas de veen son curvas cerradas dentro de las cuales se escriben o dibujan los elementos de un conjunto. Las llaves son paréntesis dentro de los cuales se escriben los elementos de un conjunto separados por comas.</i></p>  <p>Diagrama de veen</p> <p>D = { _____ } Llaves.</p>
------------------------------	--



ACTIVIDAD

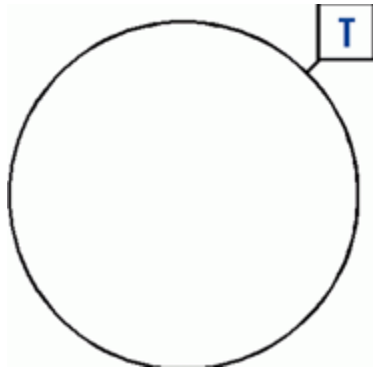
1. Dibuja en el diagrama de Venn los siguientes conjuntos.

a) Conjunto de animales domésticos.



$D = \{ \underline{\hspace{10em}} \}$

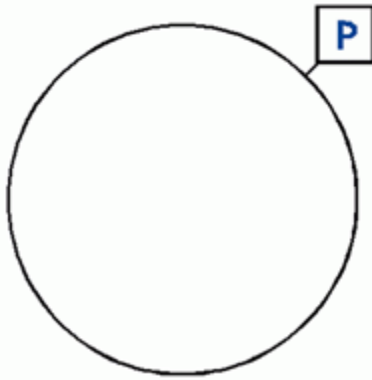
b) Conjunto de medios de transporte terrestre.



$T = \{ \underline{\hspace{10em}} \}$



c) Conjunto de nombres de países de América del Sur.



$P = \{ \underline{\hspace{10em}} \}$