

# INSTITUCION EDUCATIVA FE Y ALEGRIA AURES

Resolución N°. 0125 del 23 de Abril de 2004

Núcleo Educativo 922

Resolución N°. 9932 Noviembre 16 de 2006

“Educar para la Vida con Dulzura y Firmeza”

Gestión Académico – Pedagógica – ACTIVIDADES ESPECIALES DE RECUPERACION I

AREA: MATEMATICAS

FECHA: octubre 25 y 26 de 2022.

DOCENTE: PAULA ANDREA GONZALEZ y WILLIAM SALINAS BELEÑO

ESTUDIANTE: \_\_\_\_\_

GRADO: 1°

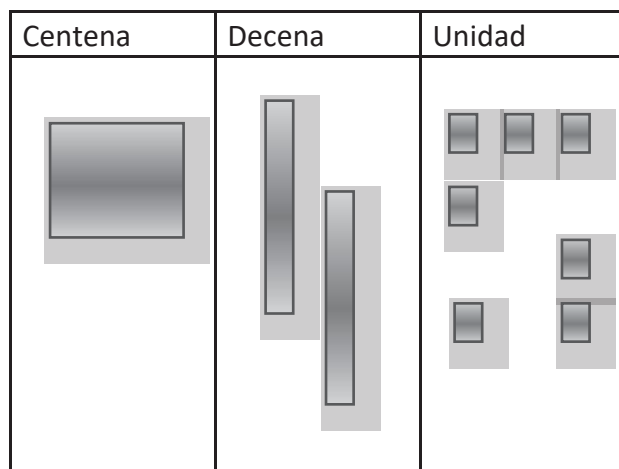
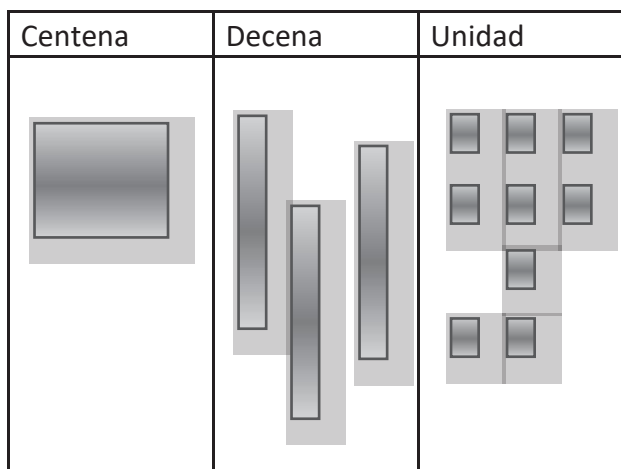
1. Dictado de números:

\_\_\_\_\_

2. Escribe en palabras los siguientes números.

98	
89	
34	
43	
11	


3. Descubre el número representado con los bloques.



Número \_\_\_\_\_

Número \_\_\_\_\_

4. Estima la cantidad de botones. Marca con una cruz la respuesta correcta.



Más de 30

Menos de 30

5. ¿Qué valor tiene el dígito remarcado en los siguientes números?

9 <u>8</u>	
<u>8</u> 9	

2 <u>4</u>	
<u>4</u> 0	

6. Escribe el signo >, < o = según corresponda.

98 \_\_\_\_\_ 89

40 \_\_\_\_\_ 19

83 \_\_\_\_\_ 93

78 \_\_\_\_\_ 78

24 \_\_\_\_\_ 42

65 \_\_\_\_\_ 56

7. Encierra en un círculo los números **mayores** que los del  $\diamond$  en cada caso.

<b>117</b>	➔	<b>107</b>	<b>171</b>	<b>177</b>	<b>110</b>
<b>145</b>		<b>144</b>	<b>158</b>	<b>154</b>	<b>140</b>
<b>198</b>		<b>199</b>	<b>109</b>	<b>200</b>	<b>108</b>

8. Realiza las operaciones

	□	
	3	5
+	5	8

	□	
	1	7
+	4	6

	□	
	5	5
+	3	6

$$\begin{array}{r} 25 \\ - 13 \\ \hline \end{array}$$

$$\begin{array}{r} 26 \\ - 10 \\ \hline \end{array}$$

$$\begin{array}{r} 47 \\ - 26 \\ \hline \end{array}$$