




Institución Educativa Yermo y Parres

Guía Didáctica de Ciencias Sociales

Grado Tercero - Cuarto periodo - 2022

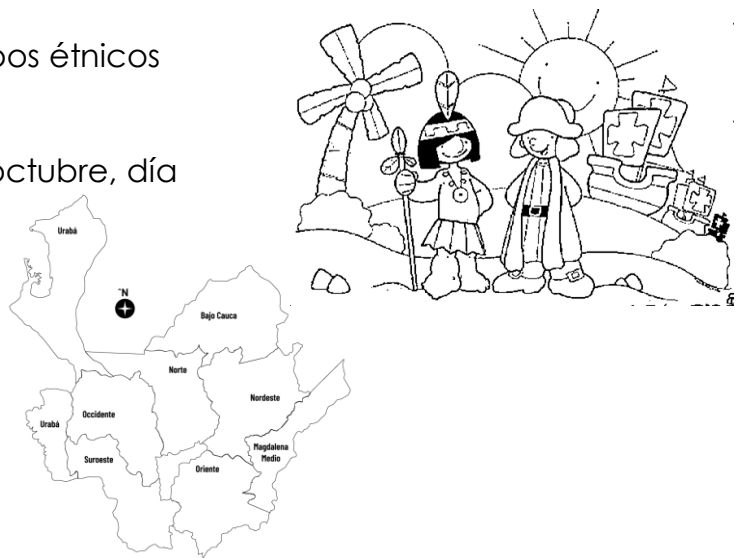


Estudiante: _____

Docente: Ana Sofía Paz Naspirán - 3118804896

Vamos a compartir el saber sobre:

- ❑ Antioquia: división en subregiones, gobernador y alcalde de Medellín.
- ❑ Algunos personajes históricos de Antioquia.
- ❑ Grupos étnicos en Colombia
- ❑ Ubicación actual de los grupos étnicos en Antioquia
- ❑ Fiestas de Colombia: 12 de octubre, día de las Identidades
- ❑ Población vulnerable
- ❑ El aire el recurso natural más contaminado de la biosfera



Al finalizar el periodo tu

- Ubicarás en el mapa de Antioquia las sub regiones geográficas y los municipios más cercanos a Medellín.
- Identificarás la multiplicidad étnica y cultural de tu departamento Antioquia y su aporte a la cultura Colombiana.
- Reconocerás la estructura y forma de gobierno en el departamento.
- Organizarás secuencialmente algunos acontecimientos históricos de Antioquia.

Departamento de Antioquia: Subregiones



Siguiendo las orientaciones de la profesora, haz lo siguiente

- 1° Colorea el mapa.
- 2° Completa los datos de la tabla N°1.
- 3° Pega los íconos más emblemáticos de cada región en el mapa.


| N° | Subregión | Municipio importante | Característica más sobresaliente |
|----|-----------|----------------------|----------------------------------|
| | | | |
| | | | |
| | | | |
| | | | |
| | | | |
| | | | |
| | | | |
| | | | |
| | | | |
| | | | |

Antioquia: Gobernador y alcalde de Medellín

Observa con atención las siguientes infografías y responde la preguntas direccionadas por la profe.



En general, ¿usted aprueba o desaprueba la forma como el Gobernador se está desempeñando en su labor?

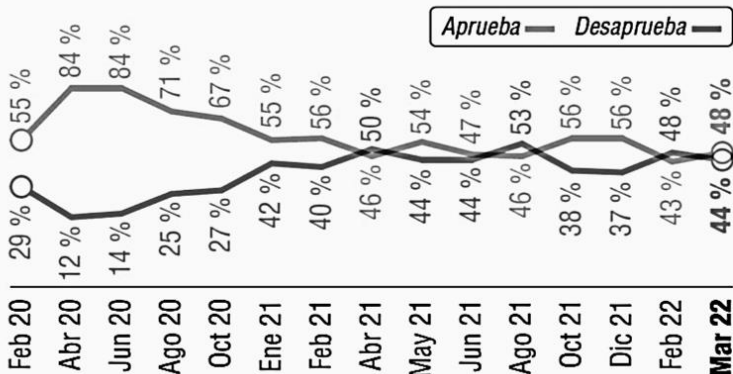


C

Fuente: Invamer Poll. Infografía: EL COLOMBIANO © 2022. DC (N4)



En general, ¿usted aprueba o desaprueba la forma como Daniel Quintero se está desempeñando en su labor?



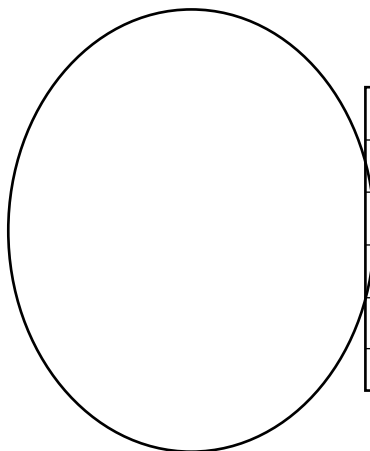
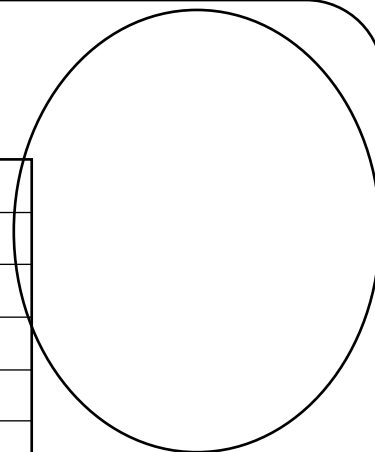
C

Fuente: Invamer Poll. Infografía: EL COLOMBIANO © 2022. DC (N4)

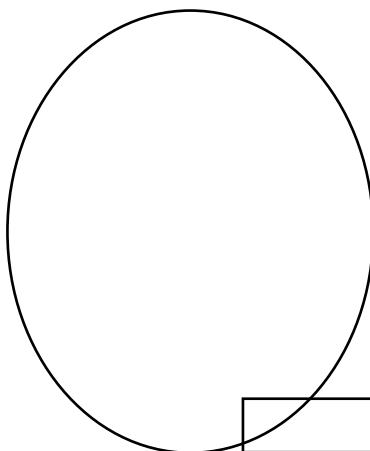


Antioquia: Personajes históricos

Siguiendo las orientaciones de la profe desarrolla en equipo esta página.

| |
|--|
| |
| |
| |
| |
| |
| |



| |
|--|
| |
| |
| |
| |
| |
| |



| |
|--|
| |
| |
| |
| |
| |
| |

| |
|--|
| |
| |
| |
| |
| |
| |

| |
|--|
| |
| |
| |
| |
| |
| |

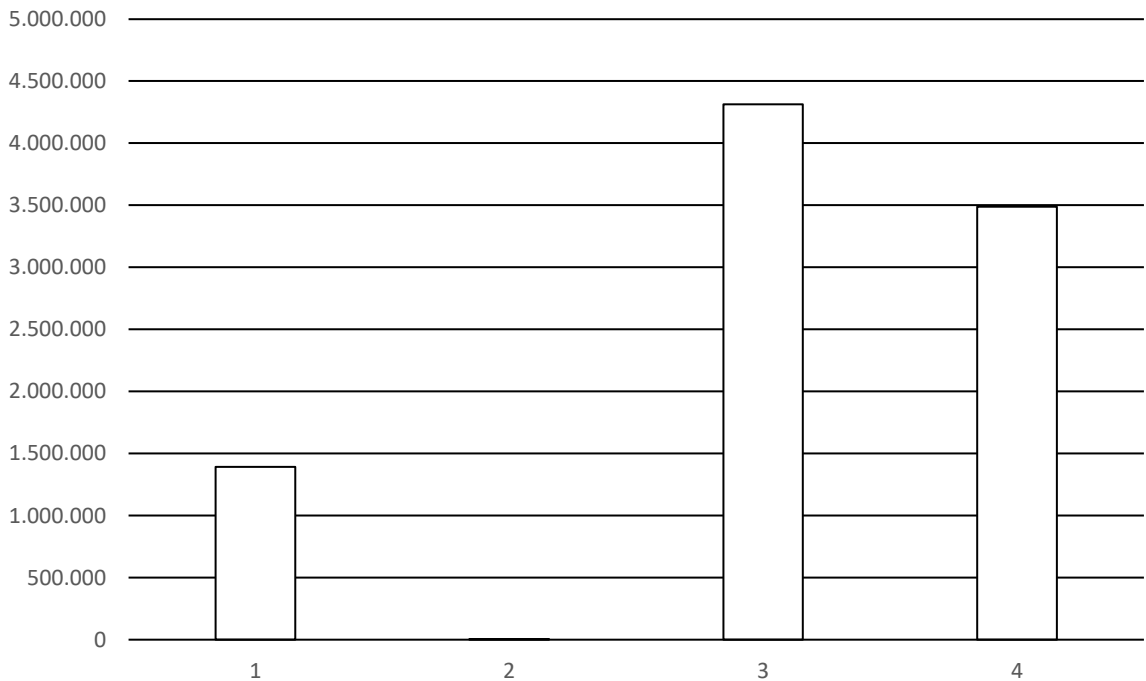
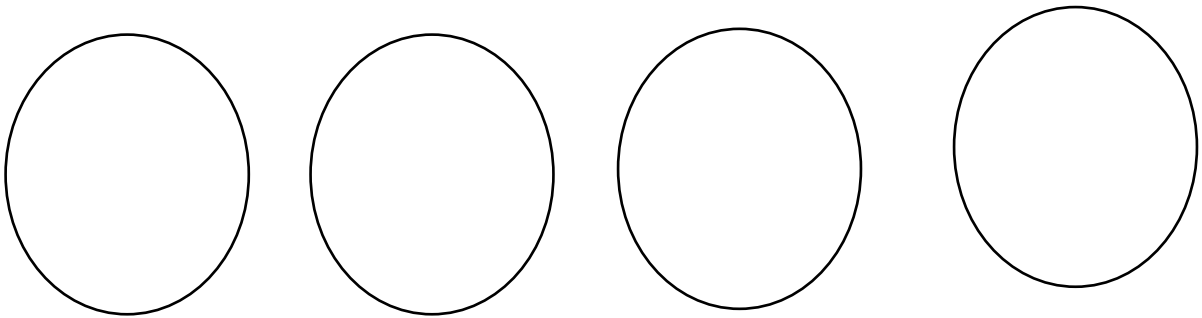
Grupos étnicos en Colombia

Siguiendo las orientaciones de la profesora, haz lo siguiente

- 1° Colorea la gráfica y el recuadro.
- 2° Pega los íconos de cada uno de los grupos étnicos.

| Grupo étnico | Población |
|------------------------|-------------|
| Total | 40.607.408* |
| Indígena | 1.392.623 |
| Rom | 4.858 |
| Afrocolombiano | 4.311.757 |
| Sin pertenencia étnica | 34.898.170 |

Fuente: DANE, Censo General 2005.

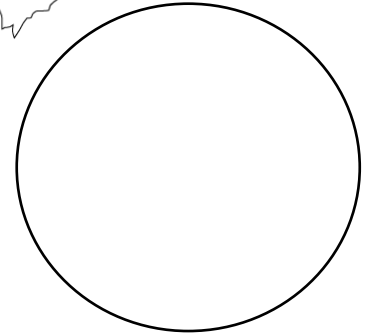
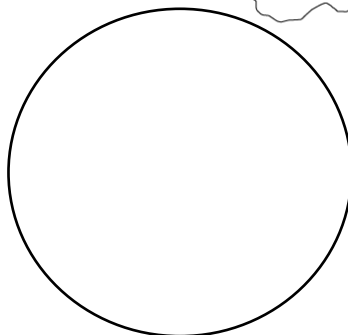

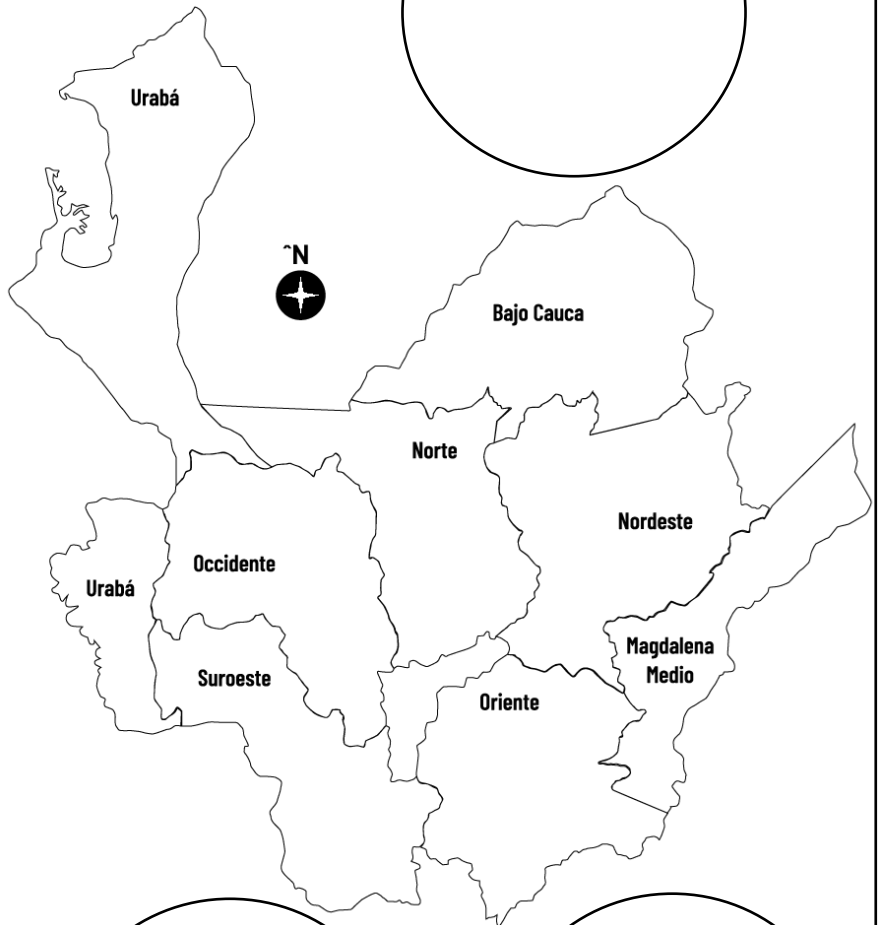

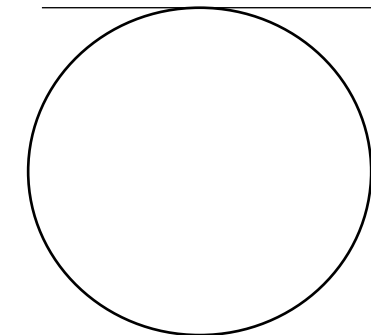
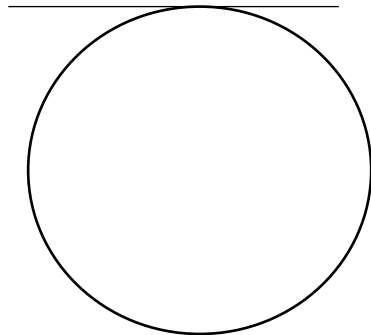


Grupos étnicos indígenas en Antioquia

Siguiendo las orientaciones de la profesora, haz lo siguiente

1° Pega las imágenes de cada una de las etnias indígenas.

2° Señala en la subregión donde se encuentran su resguardos.



Octubre 12: Día de las identidades


| | | | | | | | | | | | | | | | |
|---|---|---|---|---|---|---|---|---|---|---|---|---|---|---|---|
| A | D | R | G | H | M | A | R | D | A | S | E | F | R | S | D |
| F | G | J | N | J | A | E | T | I | O | K | P | I | N | T | A |
| C | O | L | O | N | A | D | E | T | D | F | H | U | K | F | S |
| D | E | R | S | C | T | H | S | N | S | C | J | Ñ | O | Y | C |
| E | S | E | D | A | M | E | R | I | C | A | S | I | R | T | R |
| X | S | S | E | C | X | S | I | Ñ | O | R | H | N | E | F | I |
| P | C | P | P | O | G | B | D | A | S | A | F | D | E | T | S |
| L | S | A | F | R | V | S | T | S | G | B | A | I | A | R | T |
| O | C | Ñ | R | R | E | Y | E | S | T | E | A | A | E | V | O |
| R | W | A | D | Y | U | I | K | F | S | L | A | E | R | I | B |
| A | S | A | N | T | A | M | A | R | I | A | O | T | D | A | A |
| D | A | S | D | T | N | U | L | R | Y | S | F | J | D | J | L |
| O | S | S | A | N | S | A | L | V | A | D | O | R | R | E | Y |
| R | E | C | Y | U | I | O | P | A | M | E | R | Y | N | D | A |

1º Busca en la sopa de letras, algunas palabras relacionadas con el descubrimiento de América.

2º Pega el texto según corresponda la imagen y coloréala.



- CRISTÓBAL COLÓN
- AMÉRICA
- CARABELAS
- NIÑA
- PINTA
- SANTA MARÍA
- ESPAÑA
- INDIA
- REYES
- VIAJE
- MAR
- SAN SALVADOR
- EXPLORADOR



Población vulnerable

Siguiendo las orientaciones de la profesora, complementa la siguiente infografía.



Contaminación del aire, un recurso natural.

Siguiendo las orientaciones de la profesora, completa la siguiente infografía



FACTORES

CIFRAS

ACCIONES PARA EVITARLA