



DANE: 105001006556 NIT: 900.585.184-1

Secretaría de Educación de Medellín

PLAN DE APOYO GRADO PRIMERO TERCER PERÍODO

NOMBRE: _____

1. Resuelve las siguientes sumas y restas con mucha atención. Primero ubicas los números en las casillas y luego las resuelves.

$107 + 189$

C	D	U
1	0	7
1	8	9
<hr/>		

$216 + 65$

C	D	U
<hr/>		

$321 + 186$

C	D	U
<hr/>		

$217 + 23$

C	D	U
<hr/>		

$382 - 52$

C	D	U
<hr/>		

$313 - 112$

C	D	U
<hr/>		

$185 - 52$

C	D	U
<hr/>		

$471 - 321$

C	D	U
<hr/>		



Institución Educativa Juan XXIII
Resolución de Creación Número 11751 de octubre 31 de 2012 y las Resoluciones
de Media Técnica 1263 de febrero 07 de 2017 y la 202050067197 de abril 11 de
2020

DANE: 105001006556 NIT: 900.585.184-1

Secretaría de Educación de Medellín

2. Completa las secuencias numéricas de cinco en cinco:



5				25					50
		65				85			
105				125				145	
	160								200
			220				240		
									300
	310								
									400

3. Escribe si es línea curva, recta, cerrada o abierta

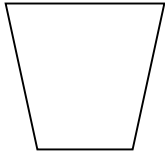
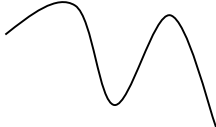
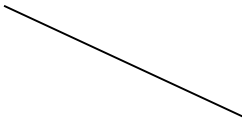
--	--	--



Institución Educativa Juan XXIII
Resolución de Creación Número 11751 de octubre 31 de 2012 y las Resoluciones
de Media Técnica 1263 de febrero 07 de 2017 y la 202050067197 de abril 11 de
2020

DANE: 105001006556 NIT: 900.585.184-1

Secretaría de Educación de Medellín

4. Descompone los números en centenas, decenas y unidades y relacionalos:

323

678

789

914

$$7c + 8d + 9u$$

$$3c + 2d + 3u$$

$$9c + 1d + 4u$$

$$6c + 7d + 8u$$





Institución Educativa Juan XXIII
Resolución de Creación Número 11751 de octubre 31 de 2012 y las Resoluciones
de Media Técnica 1263 de febrero 07 de 2017 y la 202050067197 de abril 11 de
2020

DANE: 105001006556 NIT: 900.585.184-1

Secretaría de Educación de Medellín

7. Realiza la encuesta, organiza los datos y responde las preguntas

ENCUESTA SOBRE LOS ANIMALES FAVORITOS EN MI FAMILIA

De los siguientes animales, ¿cuál te gusta más? Contesta solo uno.

ANIMAL	DIBUJA PALITOS	EN NÚMEROS
Perro 		
Gato 		
Conejo 		
Pez 		

PREGUNTAS:

- ¿Cuál es el animal favorito en mi familia? _____
- ¿Cuál es el menos favorito? _____
- ¿A cuántas personas de mi familia les gusta los perros? _____
- ¿A cuántas personas de mi familia les gusta los gatos? _____
- ¿Cuántas personas fueron encuestadas en total? _____



Institución Educativa Juan XXIII
Resolución de Creación Número 11751 de octubre 31 de 2012 y las Resoluciones
de Media Técnica 1263 de febrero 07 de 2017 y la 202050067197 de abril 11 de
2020

DANE: 105001006556 NIT: 900.585.184-1

Secretaría de Educación de Medellín

8. Resuelve estos sencillos problemas:

Ana tiene dos peceras, una con 30 peces y otra con 24 peces.
¿Cuántos peces tiene en total?

C	D	U

Solución:

María compra 48 cromos y regala a sus amigos 15 cromos.
¿Cuántos cromos le quedan?

C	D	U

Solución:

Tengo 18 carros y 13 peluches. ¿Cuántos juguetes tengo
en total?

C	D	U

Solución:

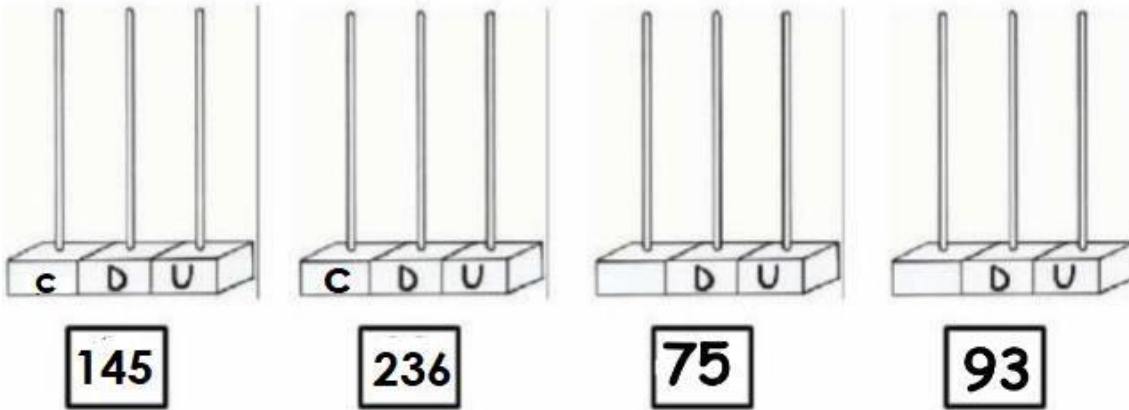


DANE: 105001006556 NIT: 900.585.184-1

Secretaría de Educación de Medellín

9.

Representa las cantidades en los ábacos:



10. Observa con atención la imagen, cuenta, escribe el número según la cantidad y colorea los cuadritos de acuerdo al número.

