
	INSTITUCION EDUCATIVA LA PAZ	Código: GPP-FR-20
	GUÍA DE AUTOAPRENDIZAJE: PLAN DE MEJORAMIENTO DE PERIODO	Versión: 01
		Página 1 de 4

Área o asignatura	Docente	Estudiante	Grado	Fecha de entrega	Periodo
Ciencias Sociales	Lina María Morales Buriticá		Noveno	Martes 26 de Marzo	1

<p>¿Qué es un refuerzo?</p> <p>Es una actividad que desarrolla el estudiante adicional y de manera complementaria para alcanzar una o varias competencias evaluadas con desempeño bajo.</p> <p>Actividades de autoaprendizaje: Observación de vídeos, lecturas, documentos, talleres, consultas.</p> <p>*Los cuadernos desatrazados no constituyen evidencia de aprendizaje</p>	<p>Estrategias de aprendizaje</p> <p>Realizar actividades de autoaprendizaje sobre los siguientes temas:</p> <p>Conceptos: Poder-Autoridad-Gobierno-Política.</p> <p>Derechos Humanos.</p> <p>Geografía Económica.</p> <p>Geografía de Colombia</p>
---	--

Competencia	Actividades	Entregables	Evaluación
<p>Ejercer derechos fundamentales del trabajo en el marco de la constitución política y los convenios internacionales.</p> <p>Comprende qué es un bien público y participo en acciones que favorezcan su uso y cuidado.</p> <p>Conoce e interactúa con el mundo físico a través de trazos e interpretación de mapas.</p>	<p>Parte 1.</p> <p>1.ELABORACIÓN DEL DIBUJO SOBRE HUMANIZACIÓN DEL DERECHO HUMANO. ASIGNADO O ELEGIDO.</p> <p>TRABAJO CARTOGRAFICO SOBRE GEOGRAFÍA DE COLOMBIA.</p> <p>Elabora un cuadro donde se indique el desarrollo económico de cada uno de los sectores económicos , por región, en nuestro país, utiliza gráficos, dibujos y datos estadísticos. No olvide referenciar la fuente.</p>	<p>1.DIBUJO SOBRE LA HUMANIZACIÓN DEL DERECHO HUMANO ASIGNADO O ELEGIDO.</p> <p>Cuadro sobre el desarrollo económico de cada uno de los sectores económicos en nuestro país, por regiones, utiliza gráficos, dibujos y datos estadísticos.</p> <p>TRABAJO CARTOGRAFICO SOBRE GEOGRAFÍA DE COLOMBIA.</p> <p>Parte 2. Resuelve los siguientes interrogantes justificando el</p>	<p>Sustentación oral del entregable1.</p> <p>Revisión del entregable 2.</p> <p>Evaluación escrita sobre factores de producción y ramas de la geografía.</p>

	INSTITUCION EDUCATIVA LA PAZ	Código: GPP-FR-20
	GUÍA DE AUTOAPRENDIZAJE: PLAN DE MEJORAMIENTO DE PERIODO	Versión: 01
		Página 2 de 4

	<p>Parte 2. Resuelve los interrogantes, que se encuentran al finalizar esta guía, justificando el enunciado elegido como la opción correcta.</p>	<p>enunciado elegido como la opción correcta.</p>	
--	--	---	--

*Para los vídeos, observe los vídeos y haga una lista de los temas y subtemas desarrollados en cada uno. Si en un vídeo se desarrollan ejercicios o problemas, transcribalos a una hoja de bloc e indique el tema al que corresponden. Para los talleres, resuelva los ejercicios, problemas o preguntas en una hoja de bloc, indicando procedimiento o argumentos las preguntas hechas por los docentes. Para los resúmenes, utilice herramientas diferentes al texto, pueden ser flujogramas, mapas mentales, mapas conceptuales. La presentación de los trabajos debe ser ordenada y clara. Para la sustentación del trabajo, debe presentarla puntualmente como se lo indique el docente.


RESUELVE LOS SIGUIENTES INTERROGANTES Y JUSTIFICA LA RESPUESTA

1. La palabra poder tiene diversos significados, se le usa para designar la capacidad de hacer algo, para recalcar el dominio o para hablar de la posibilidad de que algo suceda, lo que permite enmarcar el poder en acciones legítimas o represivas de acuerdo con Michael Foucault

o en términos mas claros, se habla de poder coactivo y coercitivo, este último concepto validaría la siguiente situación.

- A. Las elecciones democráticas en Colombia en las cuales el poder es legítimo.
- B. La dictadura argentina donde todo aquel que protestara en contra del régimen era desaparecido.
- C. En un país donde el presidente de turno elige cada cuanto son las elecciones presidenciales.
- D. En el Salvador donde el presidente renuncio para candidatizarse de nuevo a la presidencia.

2. La política muchas veces es relacionada solamente con el gobierno y los partidos políticos, además que es un asunto independiente de nuestras vidas; sin embargo, la política tiene que ver con nuestro actuar a nivel social de hecho los subsidios, las leyes, los impuestos y nuestros derechos tienen origen en la Política, cuya definición va desde el arte de gobernar hasta la promoción de los asociados. El mejor ejemplo claro para explicar esta última frase: la promoción de los asociados es:

	INSTITUCION EDUCATIVA LA PAZ	Código: GPP-FR-20
	GUÍA DE AUTOAPRENDIZAJE: PLAN DE MEJORAMIENTO DE PERIODO	Versión: 01
		Página 3 de 4

- A. La construcción de un puente que permita a los niños de una vereda pasar a la escuela sin necesidad de usar una cuerda.
- B. La elaboración de una ley que permita la reelección indefinida de los líderes políticos.
- C. La firma de un acuerdo económico para exportar cacao.
- D. La creación de un nuevo impuesto para financiar la paz.

3. Naciones Unidas define los derechos humanos como los derechos inherentes a todos los seres humanos, sin distinción de nacionalidad, lugar de residencia, sexo, origen, lengua, religión o cualquier otra condición. Así los derechos humanos se fundamentan en un único valor universal, LA DIGNIDAD, que es el valor que posee cada persona solo por el hecho de hacer parte de la humanidad. Así cada Estado debe velar por:


- A. Garantizar calidad de vida a la población: vivienda, salud, empleo, educación y salud
- B. promover en los ciudadanos el respeto de su condición humana y la de los otros
- Garantizar elecciones democráticas periódicas.
- D. Fortalecer el trabajo con la ONU.

4. La declaración universal de los Derechos Humanos busca que todos los Estados, sin excepción, se comprometan con la protección de los DD.HH, es decir que no haya lugar en el mundo donde no se busque garantizarlos, también son inalienables en tanto que se garantizan de manera permanente. De acuerdo a lo anterior, se puede deducir que:

- A. Desafortunadamente en nuestro país se falla en este principio.
- B. Este principio es altamente vulnerado en nuestro país puesto que la dignidad humana no se respeta lo que genera delitos contra la vida y la libertad.
- C. Cuando se incumple con este principio casi que automáticamente estamos poniendo en riesgo el cumplimiento de los derechos, pues cuando no se protege uno se pone en riesgo los demás.
- D. Colombia es un Estado donde se protegen los derechos humanos y los ciudadanos así lo entienden y los respetan.

5. las mujeres se enfrentan a permanentes obstáculos para lograr empoderamiento económico. De acuerdo con el Banco Mundial, unos 155 países tienen al menos una ley que limita las oportunidades económicas de las mujeres, mientras que 100 Estados ponen restricciones a los tipos de trabajos que éstas pueden desempeñar. En 18 Estados, los esposos pueden incluso determinar si sus esposas pueden siquiera trabajar. De lo anterior podemos deducir que el derecho al trabajo se ve ampliamente vulnerado en su principio de igualdad y no discriminación debido a que no se respeta:

- A. El derecho a condiciones dignas de trabajo
- B. El derecho a un trabajo libremente aceptado.
- C. El derecho al trabajo en condiciones dignas e higiénicas
- D. El derecho a igual remuneración por trabajo de igual valor.

	INSTITUCION EDUCATIVA LA PAZ	Código: GPP-FR-20
	GUÍA DE AUTOAPRENDIZAJE: PLAN DE MEJORAMIENTO DE PERIODO	Versión: 01
		Página 4 de 4

6. La Geografía es una ciencia que se encarga de estudiar todos los fenómenos que ocurren en el espacio geográfico con o sin la intervención del ser humano, tal es el caso de la Geografía Física cuyo objeto de estudio radica en el análisis y estudio de los fenómenos físicos ocurridos en el espacio geográfico. Identifica cuál de las siguientes situaciones corresponden al análisis propio de la Geografía Humana.

- A. El análisis del mar de leva y la influencia de la corriente fría que viene de los Estados Unidos.
- B. La caracterización de las placas tectónicas ya que buena parte del territorio nacional se encuentra en el cinturón de fuego del pacífico.
- C. El proceso de producción y exportación del cacao.
- D. La elaboración de una nueva cartografía sobre las fronteras nacionales.

7. La Geografía Económica apunta a resolver problemas como la localización y las formas de uso de los recursos, los procesos que se realizan para su aprovechamiento, los impactos ambientales que generan que generan las actividades humanas, los motivos para la ubicación de las actividades productivas y la forma en que las poblaciones satisfacen sus necesidades de acuerdo a los factores de producción. De acuerdo al texto, identifica el enunciado que sintetice mejor el objeto de estudio de la geografía.

A. De la naturaleza a los bienes y servicios. B. Optimización de bienes y servicios. C. actividades agrícolas Vs industrialización. D. Explotación de recursos naturales.

8. La Geografía Económica afronta varias dificultades relacionadas con la ESCASEZ, concepto que se convierte a su vez, en el objeto de estudio de la geografía Económica. De acuerdo con lo anterior identifica la principal problemática de la Geografía Económica.

- A. Consumo excesivo frente a producción ilimitada.
- B. Escasez Vs abundancia de recursos naturales.
- C. Necesidades humanas limitadas al igual que los recursos naturales.
- D. Necesidades humanas ilimitadas frente a recursos naturales limitados.

9. Colombia es un país que se ubica en la parte norte de Suramérica se caracteriza geográficamente por estar bañado por dos océanos lo que favorece a nivel medioambiental y económico, lo que le ha generado el apelativo de la mejor esquina de América. Indica a nivel económico como favorece a nuestro país esta posición geográfica.

- A. Puede exportar e importar mercancías desde los dos océanos.
- B. Permite la pesca y el turismo, convirtiéndolos en los principales renglones de la economía nacional.
- C. Favorecen el clima y con este el espacio geográfico.
- D. Posibilita la creación de muchos puertos.

10. Colombia tiene fronteras terrestres con varios países, excepto:

- A. Chile. B. Brasil. C. Ecuador. D. Perú.