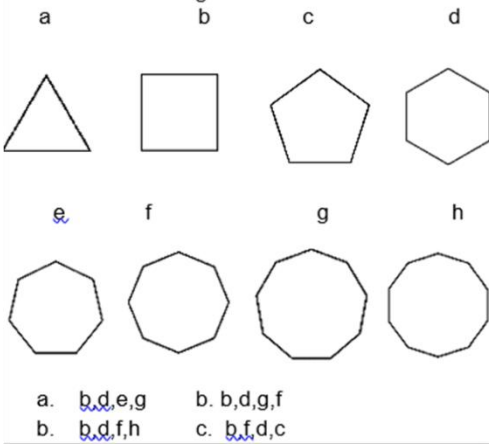




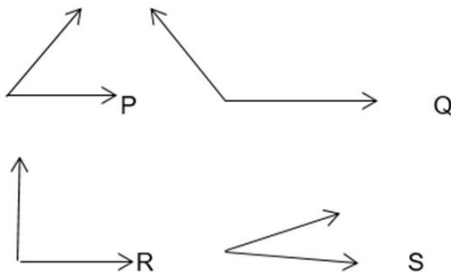
Lee atentamente cada situación y elige la correcta:

- Los cuadriláteros se clasifican en:
 - Paralelogramo, trapecio, trapezoide
 - Trapecio, rombo, triángulo
 - Trapezoide, cuadrado, octágono.
 - Cuadrado, rectángulo, rombo

- La tía de Marcela tiene unos gaticos y quiere hacerles un gimnasio. Fue a la carpintería y le vendieron las tablas con las siguientes formas y especificaciones: La base es un cuadrado, el primer piso un octágono, el segundo un hexágono y el piso de arriba un pentágono. Ayúdala a encontrar las figuras correctas.



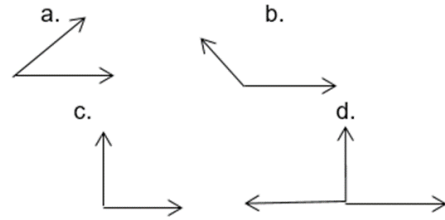
- El papá de Manuela tiene una marquertería y uno de los instrumentos que más emplea es el transportador. El papá le pide a Manuela que organice los siguientes ángulos desde el más pequeño hasta el más grande. El orden correcto en el que debe organizar los ángulos Manuela es:



- P,Q,R,S
- S,R,Q,P
- S,P,R,Q
- Q,R,P,S

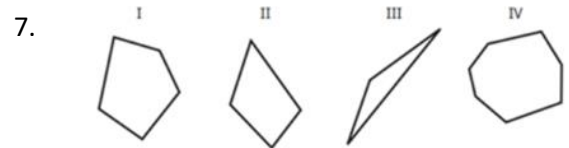
- El patio de la escuela donde estudia Mateo es cuadrado, él lo quiso recorrer para ver cuánto media su perímetro. Si cada lado medio 249cms, el total del perímetro del patio es:
 - 498 cms
 - 747 cms
 - 996 cms
 - 1.245 cms

- Para un regalo que le quiere dar Paula a un amigo de amor y amistad, tiene que armar una caja con 2 ángulos rectos, le pide a Jorge que se los elabore en cartulina plana. ¿Cuál de los siguientes ángulos es el que elaboró Jorge?



- Los cuadriláteros se clasifican en:
 - Paralelogramo, trapecio, trapezoide
 - Trapecio, rombo, triángulo
 - Trapezoide, cuadrado, octágono.
 - Cuadrado, rectángulo, rombo

Observa los siguientes polígonos:



7.

¿Cuáles de estos polígonos tienen más de 4 lados?

- I y III.
- I y IV.
- II y IV.
- II y III.

- Juan necesita medir los ángulos del triángulo que se muestra a continuación.



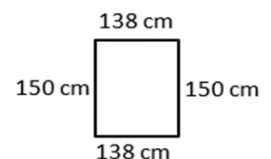
¿Cuál de los siguientes instrumentos puede utilizar Juan para medir los ángulos del triángulo?

- Regla
- Transportador
- Compás
- Escuadra

- El precio de un crucero por el Caribe es de \$12.500.000 y vamos 5 personas. ¿Cuánto debemos pagar cada uno?

- 2.000.000
- 3.600.000
- 10.000.000
- 2.500.000

- Mi habitación tiene forma rectangular y mide:



Su perímetro es:

- 576 cm
- 675 cm
- 756 cm
- 800 cm