
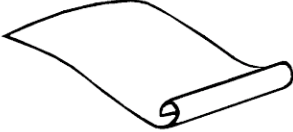





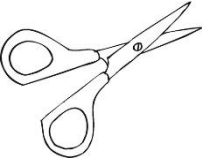
Nombre del estudiante: _____



✓ Tarea 1: Comparar números.

Aquí están las imágenes de algunos productos de la papelería. Debes mirar el precio que está debajo de cada producto y encerrar aquel que tiene el mayor precio.

	
9 Pesos	5 Pesos

	
905 Pesos	83 Pesos

	
149 Pesos	342 Pesos

	
1.450 Pesos	1.765 Pesos

✓ Tarea 2: Usar las operaciones básicas en contextos.

A continuación, encontrarás unos problemas que debes resolver utilizando cualquier procedimiento.

Juan tiene 12 lapiceros de color azul y 5 lapiceros de color negro ¿cuántos lapiceros tiene en total?

Si en una caja hay 10 sacapuntas ¿Cuántos sacapuntas hay en 3 cajas?

Pedro tenía 10 colores y se le perdieron 3 ¿Cuántos colores le quedan?

Si reparto 12 colores entre 4 niños en partes iguales ¿Cuántos colores le corresponden a cada uno?

✓ Tarea 3: Reconocer las operaciones básicas.

Resolver las siguientes operaciones de suma, resta, multiplicación y división.

$$526$$

$$+659$$

$$321$$

$$\underline{\times 5}$$

$$220$$

$$\underline{-156}$$

$$12 \div 3 =$$