



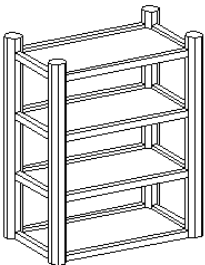





ASIGNATURA / DIMENSIÓN: MATEMÁTICAS	GRADO 2ª
PERIODO: 01 DOCENTE	FECHA:
NOMBRES Y APELLIDOS:	Nº:
GRUPO: _____	JUICIO VALORATIVO:

1. Sigue las instrucciones para ubicar los elementos:

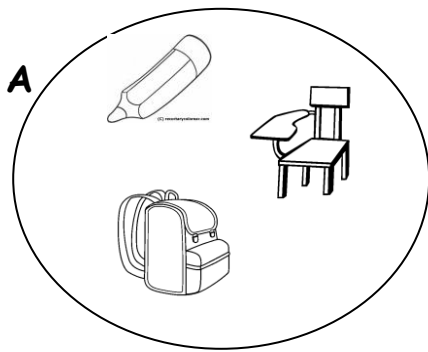
Arriba  Cabeza	Derecha 
Abajo 	Izquierda 
Entre 	Encima 

2. Realiza una decena de



:

3. Observo y escribo si el elemento pertenece (ε) o no pertenece (∉) al conjunto A.



A



A



A



A



A



A

4. El signo de la suma se representa

5. Situaciones problema

a. Sara trajo 34 manzanas y Julián trajo 23 bananos.
¿Cuántas frutas reunieron los dos?

+

b. Ana tiene 56 colores y le prestan 14 colores más. ¿Cuántos colores tiene Ana ahora?

+

c. Agregar 2:

51	53							67	
----	----	--	--	--	--	--	--	----	--

d. Quitar 1.

99	98					93			
----	----	--	--	--	--	----	--	--	--

e. Agregar 3:

13	16						34	37	
----	----	--	--	--	--	--	----	----	--

8. Completa las tablas.

A. Escribe el número que va ante.

B. Escribe el número que va después.

	55
	73
	88
	91
	105
	167
	210
	249
	320
	412

63	
79	
100	
133	
246	
275	
301	
355	
419	
499	

9. Completa el cuadro.

Se lee	Se escribe
148	
373	
91	
100	
215	

10. Continúa con la secuencia.

a. 54-55-56-57-__-__-__-__-__.

b. 697-698-699-____-____-____-____-____.

11. Resuelve los siguientes problemas matemáticos.

- Ana tenía 643 muñecas, su mamá le regaló 238 muñecas más. ¿Con cuántas muñecas quedó Ana?

R= /

- José tiene 892 balones y le regaló a su primo 537 balones ¿Con cuántos balones quedó José?

R= /

- En un estanque hay 738 peces y se mueren 270 ¿Con cuántos peces queda el estanque?

R= /


12. Relaciona cada operación matemática con su resultado y realiza el dibujo correspondiente en la línea de cada operación matemática.



676




673



576



566



553



573

325 + 248	429 + 124	527 + 149
_____	_____	_____
_____	_____	_____

13. Observa todos los elementos y realiza la tabla de datos:

A los estudiantes de segundo les preguntan cuál es su COLOR favorito y estas fueron las respuestas:

Rojo, amarillo, azul, verde, amarillo, amarillo, azul, verde, azul, amarillo, verde, rojo, rojo, verde, amarillo, verde, verde, azul, rojo, amarillo, amarillo, amarillo, rojo, azul, azul, verde, azul, rojo, amarillo, verde.

ELEMENTO	CANTIDAD	TOTAL

FECHA DE ENTREGA DEL TRABAJO Semana del 9 al 16 de Abril	FECHA DE SUSTENTACIÓN Y /O EVALUACIÓN Martes 17, miércoles 18 y Jueves 19 de Abril de 2018, según horarios de clase
NOMBRE DEL EDUCADOR(A)	FIRMA DEL EDUCADOR (A)
FIRMA DEL ESTUDIANTE	FIRMA DEL PADRE DE FAMILIA