
	INSTITUCIÓN EDUCATIVA HÉCTOR ABAD GÓMEZ		
	Proceso: GESTION CURRICULAR	Código	
Nombre del Documento: PLAN DE MEJORAMIENTO		Versión 01	Página 1 de 1

FECHA:	PERIODO: 2	GRADO: CLEI 4 & CLIE 5
ÁREA: Educación Física		
NOMBRE DEL DOCENTE: Cristian Felipe Mejía Ballesteros		



Taller de Recuperación

Teniendo en cuenta los diferentes temas vistos y las actividades realizadas durante el segundo periodo escolar, deberás preparar el taller a mano, con tu letra y ortografía. La sustentación será una evaluación escrita en los horarios establecidos después de la entrega, el trabajo escrito tiene un valor del 30% la sustentación de un 70%



- Debe ser presentado en hojas de block tamaño carta sin rallas
- Con tinta de color negra * Letra legible
- El taller debe tener todos los parámetros (portada, índice, introducción de contenido, anexos y bibliografía)
- Carpeta tamaño carta

De acuerdo a lo visto en el 2do periodo sobre baloncesto, responda:

- 1) ¿Cuántas personas forman cada equipo?
- 2) ¿En cuántos periodos se divide el partido?
- 3) ¿Cuánto dura cada periodo?
- 4) ¿Cuál es el objetivo del juego?
- 5) ¿A qué altura está el aro?
- 6) ¿Cuántos puntos recibe el equipo al hacer canasta?
- 7) ¿Cómo deben llevar la pelota los jugadores?
- 8) ¿La pelota debe lanzarse necesariamente con una mano?
- 9) ¿Con qué parte del cuerpo se agarra la pelota?
- 10) ¿Los jugadores pueden llevar la pelota sin picarla contra el suelo?
- 11) ¿Qué actividades negativas no pueden realizar los jugadores?
- 12) ¿Necesariamente se debe jugar en un lugar cerrado?

	INSTITUCIÓN EDUCATIVA HÉCTOR ABAD GÓMEZ		
	Proceso: GESTION CURRICULAR	Código	
Nombre del Documento: PLAN DE MEJORAMIENTO		Versión 01	Página 2 de 1

- 13) ¿Cuál es el largo de la cancha?
- 14) ¿Cuál es el ancho de la cancha?
- 15) ¿Qué forma tiene la pelota?
- 16) ¿De qué están hechas las pelotas?
- 17) ¿De qué color son mayormente las pelotas?
- 18) ¿Dónde se encuentran las canastas?
- 19) ¿Cuánto mide el aro de la canasta?
- 20) ¿Cuál es la ropa que se utiliza al jugar?
- 21) ¿En qué año se creó este deporte?
- 22) ¿Quién inventó este deporte?
- 23) ¿En qué país se creó?
- 24) ¿En qué año se jugó por primera vez este deporte en las olimpiadas?
- 25) ¿Solo los hombres pueden practicar este deporte?
- 26) ¿Cuántos árbitros controlan el juego?
- 27) ¿Quién gana en un partido?
- 28) ¿Se le puede pegar a la pelota con el puño?
- 29) Dibuje la cancha, las medidas e implementos que debe llevar cada jugador.

	INSTITUCIÓN EDUCATIVA HÉCTOR ABAD GÓMEZ		
	Proceso: GESTION CURRICULAR	Código	
Nombre del Documento: PLAN DE MEJORAMIENTO		Versión 01	Página 3 de 1

OBSERVACIONES	
FECHA DE ENTREGA DEL TRABAJO	En las fechas asignadas por la institución en horarios de clases.
DOCENTE CRISTIAN FELIPE MEJÍA BALLESTEROS	FIRMA DEL DOCENTE
FIRMA DEL ESTUDIANTE	FIRMA DEL PADRE DE FAMILIA