
	INSTITUCIÓN EDUCATIVA HÉCTOR ABAD GÓMEZ		
	Proceso: GESTION CURRICULAR	Código	
Nombre del Documento: Prueba de periodo		Versión 01	Página 1 de 7

FECHA: 2018	PERIODO: II	GRADO: Aceleración aulas felixibles 6° - 7°
Áreas: Ciencias Sociales		
NOMBRE DEL ESTUDIANTE:		

Responde de la pregunta 1 a la 5
ZONA RURAL – ZONA URBANA
Figura A **Figura B**



ZONA RURAL

La idea de zona rural, está vinculada al territorio con escasa cantidad de habitantes donde la principal actividad económica es la agropecuaria. Las zonas rurales se componen de campos en los cuales se desarrolla la agricultura y se cría ganado. Las materias primas que se obtienen en estas zonas luego son enviadas a las ciudades, donde se procesan y se consumen.

ZONA URBANA

Se considera que una zona urbana se caracteriza por estar habitada de forma permanente por más de 2.000 habitantes. La actualización de los modelos de desarrollo urbano ha ocasionado que la densidad de población, la **extensión geográfica** y el planeamiento y creación de infraestructuras se combinen para ser factores claves en la delimitación de esta clase de áreas. Por otra parte, las zonas urbanas ofrecen un mayor abanico de recursos para la supervivencia de las personas.

1. ¿Cuál es la principal actividad económica de la zona rural?

- A. Industrial
- B. Escases de habitantes
- C. Agropecuario**
- D. Extensión geográfica

ZONA RURAL – ZONA URBANA
Figura A **Figura B**



ZONA RURAL

La idea de zona rural, está vinculada al territorio con escasa cantidad de habitantes donde la principal actividad económica es la agropecuaria. Las zonas rurales se componen de campos en los cuales se desarrolla la agricultura y se cría ganado. Las materias primas que se obtienen en estas zonas luego son enviadas a las ciudades, donde se procesan y se consumen.

ZONA URBANA

Se considera que una zona urbana se caracteriza por estar habitada de forma permanente por más de 2.000 habitantes. La actualización de los modelos de desarrollo

Los blancos llegaron con el arribo de los españoles a nuestro país, en el año 1500; ellos encontraron alrededor de 800 mil nativos indígenas, entre muiscas, quimbayas, tayronas, motilones, pijaos, caribes, guambianos, paeces, zenúes y otros más. Dicen los historiadores que, entre 1540 y 1810, pudieron llegar a Colombia unos 150 mil hombres y mujeres traídos desde África, en las bodegas de los galeones, quienes hoy en día se reconocen como afrodescendientes o afrocolombianos. Desde el inicio de la colonización, muchos factores provocaron la unión entre personas provenientes de diferentes lugares y culturas, por ejemplo: la escasez de mujeres blancas o el deseo de libertad para los hijos de mujeres esclavas, etc. Esto dio origen a la enorme variedad étnica y cultural que actualmente convive en Colombia, tales como:



11. ¿Según la lectura los primeros habitantes de nuestro país fueron?:

- A. San Agustín
- B. Los españoles
- C. Los Aborígenes**
- D. Ninguna de las anteriores

Primeros habitantes de nuestro país

Los primeros habitantes de nuestro país fueron los aborígenes, que habían desarrollado ampliamente su cultura antes de la llegada de los españoles. Los investigadores han encontrado, por ejemplo, que una de las culturas más antiguas fue la de San Agustín que se ubicó en lo que hoy es el sur del Huila. En el parque arqueológico San Agustín se conservan todavía sus representaciones míticas construidas en piedra, pero la cultura agustiniana desapareció unos trescientos años antes de la Conquista. Los blancos llegaron con el arribo de los españoles a nuestro país, en el año 1500; ellos encontraron alrededor de 800 mil nativos indígenas, entre muiscas, quimbayas, tayronas, motilones, pijaos, caribes, guambianos, paeces, zenúes y otros más. Dicen los historiadores que, entre 1540 y 1810, pudieron llegar a Colombia unos 150 mil hombres y mujeres traídos desde África, en las bodegas de los galeones, quienes hoy en día se reconocen como afrodescendientes o afrocolombianos. Desde el inicio de la colonización, muchos factores provocaron la unión entre personas provenientes de diferentes lugares y culturas, por ejemplo: la escasez de mujeres blancas o el deseo de libertad para los hijos de mujeres esclavas, etc. Esto dio origen a la enorme variedad étnica y cultural que actualmente convive en Colombia, tales como:

urbano ha ocasionado que la densidad de población, la **extensión geográfica** y el planeamiento y creación de infraestructuras se combinen para ser factores claves en la delimitación de esta clase de áreas. Por otra parte, las zonas urbanas ofrecen un mayor abanico de recursos para la supervivencia de las personas.

2. ¿Características de la zona urbana son?

- A. Edificios, gran cantidad de personas, autos
- B. Fincas, ganado
- C. Viviendas distantes
- D. Las personas se dedican a la agricultura y la ganadería

ZONA RURAL – ZONA URBANA

Figura A



Figura B



ZONA RURAL

La idea de zona rural, está vinculada al territorio con escasa cantidad de habitantes donde la principal actividad económica es la agropecuaria. Las zonas rurales se componen de campos en los cuales se desarrolla la agricultura y se cría ganado. Las materias primas que se obtienen en estas zonas luego son enviadas a las ciudades, donde se procesan y se consumen.

ZONA URBANA

Se considera que una zona urbana se caracteriza por estar habitada de forma permanente por más de 2.000 habitantes. La actualización de los modelos de desarrollo urbano ha ocasionado que la densidad de población, la **extensión geográfica** y el planeamiento y creación de infraestructuras se combinen para ser factores claves en la delimitación de esta clase de áreas. Por otra parte, las zonas urbanas ofrecen un mayor abanico de recursos para la supervivencia de las personas.

3. ¿A qué zona corresponde la figura B?

- A. Municipio
- B. Zona urbana
- C. Pueblo
- D. Zona rural

ZONA RURAL – ZONA URBANA

Figura A



Figura B



ZONA RURAL

La idea de zona rural, está vinculada al territorio con escasa cantidad de habitantes donde la principal actividad económica es la agropecuaria. Las zonas rurales se componen de campos en los cuales se



12. ¿Según la lectura una de las culturas más antigua de nuestro país fue?:

- A. Hombres blancos
- B. Parque arqueológico
- C. San Agustín
- D. Los españoles

Primeros habitantes de nuestro país

Los primeros habitantes de nuestro país fueron los aborígenes, que habían desarrollado ampliamente su cultura antes de la llegada de los españoles. Los investigadores han encontrado, por ejemplo, que una de las culturas más antiguas fue la de San Agustín que se ubicó en lo que hoy es el sur del Huila. En el parque arqueológico San Agustín se conservan todavía sus representaciones míticas construidas en piedra, pero la cultura agustiniana desapareció unos trescientos años antes de la Conquista. Los blancos llegaron con el arribo de los españoles a nuestro país, en el año 1500; ellos encontraron alrededor de 800 mil nativos indígenas, entre muisca, quimbayas, tayronas, motilones, pijaos, caribes, guambianos, paeces, zenúes y otros más. Dicen los historiadores que, entre 1540 y 1810, pudieron llegar a Colombia unos 150 mil hombres y mujeres traídos desde África, en las bodegas de los galeones, quienes hoy en día se reconocen como afrodescendientes o afrocolombianos. Desde el inicio de la colonización, muchos factores provocaron la unión entre personas provenientes de diferentes lugares y culturas, por ejemplo: la escasez de mujeres blancas o el deseo de libertad para los hijos de mujeres esclavas, etc. Esto dio origen a la enorme variedad étnica y cultural que actualmente convive en Colombia, tales como:



13. ¿Acorde a las imágenes, la unión entre personas negras y blancas, dan hijos?:

- A. Zambo
- B. Mestizo
- C. Mulatos
- D. Aborígen

Primeros habitantes de nuestro país

Los primeros habitantes de nuestro país fueron los aborígenes, que habían desarrollado ampliamente su cultura antes de la

desarrolla la agricultura y se cría ganado. Las materias primas que se obtienen en estas zonas luego son enviadas a las ciudades, donde se procesan y se consumen.

ZONA URBANA

Se considera que una zona urbana se caracteriza por estar habitada de forma permanente por más de 2.000 habitantes. La actualización de los modelos de desarrollo urbano ha ocasionado que la densidad de población, la **extensión geográfica** y el planeamiento y creación de infraestructuras se combinen para ser factores claves en la delimitación de esta clase de áreas. Por otra parte, las zonas urbanas ofrecen un mayor abanico de recursos para la supervivencia de las personas.

4. ¿Según el texto subrayado **extensión geográfica** en la lectura, corresponde a?

- A. una esquina
- B. Una amplia zona
- C. una cuadra
- D. Poca extensión de tierra

ZONA RURAL – ZONA URBANA

Figura A

Figura B



ZONA RURAL

La idea de zona rural, está vinculada al territorio con escasa cantidad de habitantes donde la principal actividad económica es la agropecuaria. Las zonas rurales se componen de campos en los cuales se desarrolla la agricultura y se cría ganado. Las materias primas que se obtienen en estas zonas luego son enviadas a las ciudades, donde se procesan y se consumen.

ZONA URBANA

Se considera que una zona urbana se caracteriza por estar habitada de forma permanente por más de 2.000 habitantes. La actualización de los modelos de desarrollo urbano ha ocasionado que la densidad de población, la **extensión geográfica** y el planeamiento y creación de infraestructuras se combinen para ser factores claves en la delimitación de esta clase de áreas. Por otra parte, las zonas urbanas ofrecen un mayor abanico de recursos para la supervivencia de las personas.

5. ¿A qué zona corresponde la figura A?


- A. Municipio
- B. Zona urbana
- C. Pueblo
- D. Zona rural

Responde de la pregunta # 6 a la 10

SECTORES DE LA ECONOMÍA

En la economía de un país existen ciertas actividades que comparten algunas características en común, guardan una unidad y se diferencian de otras

llegada de los españoles. Los investigadores han encontrado, por ejemplo, que una de las culturas más antiguas fue la de San Agustín que se ubicó en lo que hoy es el sur del Huila. En el parque arqueológico San Agustín se conservan todavía sus representaciones míticas construidas en piedra, pero la cultura agustiniana desapareció unos trescientos años antes de la Conquista. Los blancos llegaron con el arribo de los españoles a nuestro país, en el año 1500; ellos encontraron alrededor de 800 mil nativos indígenas, entre muiscas, quimbayas, tayronas, motilones, pijaos, caribes, guambianos, paeces, zenúes y otros más. Dicen los historiadores que, entre 1540 y 1810, pudieron llegar a Colombia unos 150 mil hombres y mujeres traídos desde África, en las bodegas de los galeones, quienes hoy en día se reconocen como afrodescendientes o afrocolombianos. Desde el inicio de la colonización, muchos factores provocaron la unión entre personas provenientes de diferentes lugares y culturas, por ejemplo: la escasez de mujeres blancas o el deseo de libertad para los hijos de mujeres esclavas, etc. Esto dio origen a la enorme variedad étnica y cultural que actualmente convive en Colombia, tales como:



14. ¿Acorde a las imágenes, la unión entre personas aborígenes y negras, dan hijos?:

- A. Zambo
- B. Mestizo
- C. Mulatos
- D. Aborígen

Primeros habitantes de nuestro país

Los primeros habitantes de nuestro país fueron los aborígenes, que habían desarrollado ampliamente su cultura antes de la llegada de los españoles. Los investigadores han encontrado, por ejemplo, que una de las culturas más antiguas fue la de San Agustín que se ubicó en lo que hoy es el sur del Huila. En el parque arqueológico San Agustín se conservan todavía sus representaciones míticas construidas en piedra, pero la cultura agustiniana desapareció unos trescientos años antes de la Conquista. Los blancos llegaron con el arribo de los españoles a nuestro país, en el año 1500; ellos encontraron alrededor de 800 mil nativos indígenas, entre muiscas, quimbayas, tayronas, motilones, pijaos, caribes, guambianos, paeces, zenúes y otros más. Dicen los historiadores que, entre 1540 y 1810, pudieron llegar a Colombia unos 150 mil hombres y mujeres traídos desde África, en las bodegas de los galeones, quienes hoy en día se reconocen como afrodescendientes o afrocolombianos. Desde el inicio de la colonización, muchos factores provocaron la unión entre personas provenientes de diferentes lugares y culturas, por ejemplo: la escasez de mujeres blancas o el deseo de libertad para los hijos de mujeres esclavas, etc. Esto dio origen a la enorme variedad étnica y cultural que actualmente convive en Colombia, tales como:

actividades, a esto se llama sector económico. Por lo general la economía de un país está dividida en tres sectores económicos de la siguiente manera:

– Un sector primario que obtiene sus productos del contacto directo con la naturaleza sin transformar de ella absolutamente nada (extracción de materia prima) y del cual hacen parte la agricultura, la ganadería, la caza, la pesca y la silvicultura.

– Un sector secundario relacionado con la transformación industrial y producción de bienes y productos de consumo. Este sector, a su vez, se subdivide en industrial extractivo, compuesto por las industrias dedicadas a la extracción de petróleo y carbón; e industrial de transformación, conformado por las empresas dedicadas a la transformación de materias primas en bienes y productos de consumo, por ejemplo, las industrias productoras de enlatados, electrodomésticos, textiles (ropa), fertilizantes, etc.

– Un sector terciario en el cual no se produce ningún tipo de mercancía o producto en sí mismo sino que se orienta a la prestación de servicios necesarios para el bienestar de la comunidad. En este sector se encuentran los hospitales, escuelas, hoteles, restaurantes, servicios de comunicación, bancos, etc.

6. ¿Acorde a la lectura qué actividades corresponden al sector terciario de la economía?

- A. Electrodomésticos, textiles
- B. Materias primas, Extracción de carbón
- C. Agricultura, pesca
- D. Prestación de un servicio, atención en bancos**

SECTORES DE LA ECONOMÍA

En la economía de un país existen ciertas actividades que comparten algunas características en común, guardan una unidad y se diferencian de otras actividades, a esto se llama sector económico. Por lo general la economía de un país está dividida en tres sectores económicos de la siguiente manera:

– Un sector primario que obtiene sus productos del contacto directo con la naturaleza sin transformar de ella absolutamente nada (extracción de materia prima) y del cual hacen parte la agricultura, la ganadería, la caza, la pesca y la silvicultura.

– Un sector secundario relacionado con la transformación industrial y producción de bienes y productos de consumo. Este sector, a su vez, se subdivide en industrial extractivo, compuesto por las industrias dedicadas a la extracción de petróleo y carbón; e industrial de transformación, conformado por las empresas dedicadas a la transformación de materias primas en bienes y productos de consumo, por ejemplo, las industrias productoras de enlatados, electrodomésticos, textiles (ropa), fertilizantes, etc.

– Un sector terciario en el cual no se produce ningún tipo de mercancía o producto en sí mismo sino que se orienta a la prestación de servicios necesarios para el bienestar de la comunidad. En este sector se encuentran los hospitales, escuelas, hoteles, restaurantes, servicios de comunicación, bancos, etc.

7 ¿Acorde a la lectura qué actividades corresponden al sector secundario de la



15. ¿Acorde a las imágenes, la unión entre personas blancas con aborígenes, dan hijos?:

- A. Zambo
- B. Mestizo**
- C. Mulatos
- D. Aborígen

Responde de la pregunta 16 a la 19

Señales de tránsito

Las señales de tránsito son aquellos carteles colocados al costado de la ruta o elevados sobre el piso con información útil para los conductores, peatones y ciclistas. Hay tres clases de señales de tránsito: Preventivas, reglamentarias e informativas. Cada grupo se distingue por su forma y por sus colores predominantes.



16. ¿En la anterior figura, cuál es una señal preventiva?

- A. La señal de color amarillo**
- B. La señal de color azul
- C. La señal de color rojo
- D. Ninguna de las anteriores

Señales de tránsito

Las señales de tránsito son aquellos carteles colocados al costado de la ruta o elevados sobre el piso con información útil para los conductores, peatones y ciclistas. Hay tres clases de señales de tránsito: Preventivas, reglamentarias e informativas. Cada grupo se distingue por su forma y por sus colores predominantes.

economía?

- A. Industrias productoras de enlatados, Fertilizantes
- B. Telecomunicaciones
- C. Hoteles
- D. Ninguna de las anteriores

SECTORES DE LA ECONOMÍA

En la economía de un país existen ciertas actividades que comparten algunas características en común, guardan una unidad y se diferencian de otras actividades, a esto se llama sector económico. Por lo general la economía de un país está dividida en tres sectores económicos de la siguiente manera:

- Un sector primario que obtiene sus productos del contacto directo con la naturaleza sin transformar de ella absolutamente nada (extracción de materia prima) y del cual hacen parte la agricultura, la ganadería, la caza, la pesca y la silvicultura.
- Un sector secundario relacionado con la transformación industrial y producción de bienes y productos de consumo. Este sector, a su vez, se subdivide en industrial extractivo, compuesto por las industrias dedicadas a la extracción de petróleo y carbón; e industrial de transformación, conformado por las empresas dedicadas a la transformación de materias primas en bienes y productos de consumo, por ejemplo, las industrias productoras de enlatados, electrodomésticos, textiles (ropa), fertilizantes, etc.
- Un sector terciario en el cual no se produce ningún tipo de mercancía o producto en sí mismo sino que se orienta a la prestación de servicios necesarios para el bienestar de la comunidad. En este sector se encuentran los hospitales, escuelas, hoteles, restaurantes, servicios de comunicación, bancos, etc.

8. ¿Acorde a la lectura qué actividades corresponden al sector primario de la economía?

- A. Automóviles
- B. Petróleo
- C. Atención hospitalaria
- D. Extracción de materia prima

SECTORES DE LA ECONOMÍA

En la economía de un país existen ciertas actividades que comparten algunas características en común, guardan una unidad y se diferencian de otras actividades, a esto se llama sector económico. Por lo general la economía de un país está dividida en tres sectores económicos de la siguiente manera:

- Un sector primario que obtiene sus productos del contacto directo con la naturaleza sin transformar de ella absolutamente nada (extracción de materia prima) y del cual hacen parte la agricultura, la ganadería, la caza, la pesca y la silvicultura.
- Un sector secundario relacionado con la transformación industrial y producción de bienes y productos de consumo. Este sector, a su vez, se subdivide en industrial extractivo, compuesto por las industrias dedicadas a la extracción de petróleo y carbón; e industrial de transformación, conformado por las empresas dedicadas a la transformación de materias primas en bienes y productos de consumo, por ejemplo,



17. ¿En la anterior figura, cuál es una señal reglamentaria?

- A. La señal de color amarillo
- B. La señal de color azul
- C. La señal de color rojo
- D. Ninguna de las anteriores

Señales de tránsito

Las señales de tránsito son aquellos carteles colocados al costado de la ruta o elevados sobre el piso con información útil para los conductores, peatones y ciclistas. Hay tres clases de señales de tránsito: Preventivas, reglamentarias e informativas. Cada grupo se distingue por su forma y por sus colores predominantes.





18. ¿En la anterior figura, cuál es una señal informativa?

- A. La señal de color amarillo
- B. La señal de color azul
- C. La señal de color rojo
- D. Ninguna de las anteriores

Señales de tránsito

Las señales de tránsito son aquellos carteles colocados al costado de la ruta o elevados sobre el piso con información útil para los conductores, peatones y ciclistas. Hay tres clases de señales de tránsito: Preventivas, reglamentarias e informativas. Cada grupo se distingue por su forma y por sus colores predominantes.

	INSTITUCIÓN EDUCATIVA HÉCTOR ABAD GÓMEZ		
	Proceso: GESTION CURRICULAR	Código	
Nombre del Documento: Prueba de periodo		Versión 01	Página 6 de 7

las industrias productoras de enlatados, electrodomésticos, textiles (ropa), fertilizantes, etc.
 – Un sector terciario en el cual no se produce ningún tipo de mercancía o producto en sí mismo sino que se orienta a la prestación de servicios necesarios para el bienestar de la comunidad. En este sector se encuentran los hospitales, escuelas, hoteles, restaurantes, servicios de comunicación, bancos, etc.

9. ¿En qué sectores se divide la economía de un país?:

- A. Ganadería, Industrias
- B. Materia prima, Silvicultura
- C. Municipio, ciudad, departamento
- D. Primario, secundario y terciario**

SECTORES DE LA ECONOMÍA

En la economía de un país existen ciertas actividades que comparten algunas características en común, guardan una unidad y se diferencian de otras actividades, a esto se llama sector económico. Por lo general la economía de un país está dividida en tres sectores económicos de la siguiente manera:

– Un sector primario que obtiene sus productos del contacto directo con la naturaleza sin transformar de ella absolutamente nada (extracción de materia prima) y del cual hacen parte la agricultura, la ganadería, la caza, la pesca y la silvicultura.

– Un sector secundario relacionado con la transformación industrial y producción de bienes y productos de consumo. Este sector, a su vez, se subdivide en industrial extractivo, compuesto por las industrias dedicadas a la extracción de petróleo y carbón; e industrial de transformación, conformado por las empresas dedicadas a la transformación de materias primas en bienes y productos de consumo, por ejemplo, las industrias productoras de enlatados, electrodomésticos, textiles (ropa), fertilizantes, etc.

– Un sector terciario en el cual no se produce ningún tipo de mercancía o producto en sí mismo sino que se orienta a la prestación de servicios necesarios para el bienestar de la comunidad. En este sector se encuentran los hospitales, escuelas, hoteles, restaurantes, servicios de comunicación, bancos, etc.

10. ¿La compra y venta de productos pertenece a qué sector económico?:

- A. Terciario**
- B. Secundario
- C. Primario
- D. Ninguna de las anteriores

Responde de la pregunta # 11 a la 15

Primeros habitantes de nuestro país

Los primeros habitantes de nuestro país fueron los aborígenes, que habían desarrollado ampliamente su cultura antes de la llegada de los españoles. Los investigadores han encontrado, por ejemplo, que una de las culturas más antiguas fue la de San Agustín que se



19. ¿Qué forma tienen las señales preventivas?

- A. Cuadradas
- B. Rombo**
- C. Rectangulares
- D. Redondas

Responde de la pregunta 20 a la 25

MI PAIS

20. ¿Cuántos departamentos tiene Colombia?

- A. 28
- B. 31
- C. 32**
- D. Ninguna de las anteriores

21. ¿Qué nombre reciben las cordilleras que atraviesan el país?

- A. lado 1 – centro y lado 2
- B. alto – medio y bajo
- C. Sierra – Nudo - Macizo
- D. Cordilleras Central – Oriental - Occidental**

22. ¿Cuáles son las regiones de Colombia?



- A. Antioquia, Cundinamarca, Pasto
- B. Isla, Playa, Nevado
- C. País, capital, Municipio, Barrio
- D. Caribe, Andina, Pacífica, Amazonía, Orinoquía, Insular**

23. ¿Cuál es la capital de Boyacá?

- A. Cúcuta
- B. Medellín
- C. Pasto
- D. Tunja**

24. ¿Cuáles son los países que limitan con Colombia?

- A. Italia, Costa rica, Aruba,
- B. Venezuela, Brasil, Perú, Ecuador, Panamá**
- C. México, Medellín, Cartagena
- D. Ninguna de las anteriores

	INSTITUCIÓN EDUCATIVA HÉCTOR ABAD GÓMEZ		
	Proceso: GESTION CURRICULAR	Código	
Nombre del Documento: Prueba de periodo		Versión 01	Página 7 de 7

<p>ubicó en lo que hoy es el sur del Huila. En el parque arqueológico San Agustín se conservan todavía sus representaciones míticas construidas en piedra, pero la cultura agustiniana desapareció unos trescientos años antes de la Conquista.</p>	<p>25. ¿Cuáles océanos limitan con nuestro territorio?</p> <p>A. Muerto, B. Mediterráneo C. Indico, Antártico D. Océano pacífico y atlántico</p>
---	--