
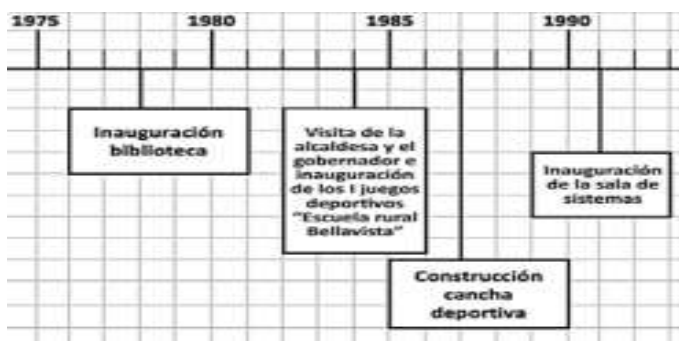
	<b>INSTITUCIÓN EDUCATIVA HÉCTOR ABAD GÓMEZ</b>		
	Proceso: GESTION CURRICULAR	Código	
Nombre del Documento: Prueba de periodo		Versión 01	Página 1 de 4

FECHA: 2018	PERIODO: III	GRADO: Aceleración aulas flexibles 6° - 7°
Áreas: Ciencias Sociales		
NOMBRE DEL ESTUDIANTE:		

**LINEA DE TIEMPO**

1. Una línea de tiempo permite presentar en orden cronológico, es decir en el orden en que sucedieron los hechos, una secuencia de acontecimientos que hacen parte de un mismo proceso. Por ejemplo, tu nacimiento o tu primer día en la escuela (acontecimientos) hacen parte de tu infancia (proceso). En esta línea de tiempo, cada raya representa 1 año. El registro de los años, que se hizo de 5 en 5, aparece en la parte superior. Los hechos registrados en los recuadros señalan con una línea el año en que sucedieron.

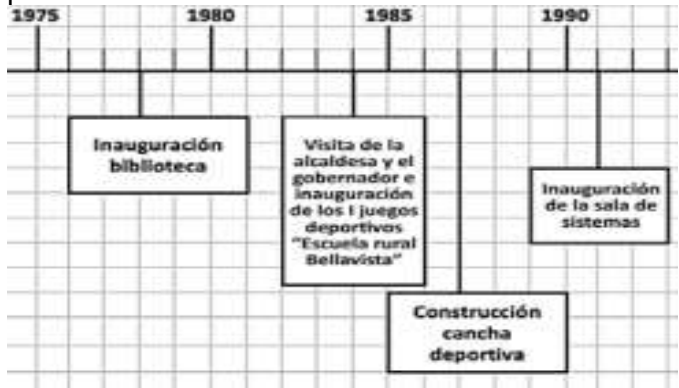


Acorde al ejemplo anterior, responde de la pregunta

¿En qué año se da la inauguración de la biblioteca?

- A. 1975
- B. 1965
- C. 1978**
- D. 1980

2. Acorde al ejemplo, una línea de tiempo permite presentar:



- A. El nacimiento de un imperio
- B. La construcción de una casa
- C. Cuando pagar cuentas
- D. El orden cronológico de los hechos según la historia**

3. Una línea de tiempo permite presentar en orden cronológico, es decir en el orden en que sucedieron

12. La **MAQUETA** y los **PLANOS** son una herramienta para la reproducción de un monumento, edificio u otra construcción (reales o proyectados) hecha a escala en tamaño reducido para mostrar los diferentes espacios de un lugar, es utilizado por arquitectos y constructores para validar las expectativas de proyectos de construcción y venderlos. Tanto la maqueta como el plano representan a escala las dimensiones reales de un espacio u objeto. La maqueta es una representación en tres dimensiones y el plano en solo dos.

¿En cuántas dimensiones se representa un plano?

- A. una
- B. Tres
- C. Dos**
- D. Todas las anteriores

13. DIRECCIONES



¿Qué calle y carrera rodea el edificio Coltejer?

- A. Calle 53 – Carrera 46
- B. Calle 52 – Carrera 47**
- C. Calle 20 – Carrera 34
- D. Ninguna de las anteriores

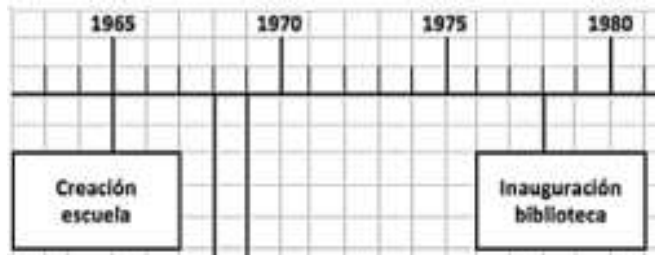
14. DIRECCIONES  
Según el mapa

los hechos, una secuencia de acontecimientos que hacen parte de un mismo proceso, historia o construcción de alguna edificación.

¿Qué presenta una línea de tiempo?

- A. La historia de una escuela
- B. El orden cronológico de una historia
- C. Los tiempos precisos de una línea de tiempo
- D. Todas las anteriores**

4. ¿Cuál es la fecha más antigua de esta línea de tiempo?



- A. 1970
- B. 1965**
- C. 1980
- D. Ninguna de las anteriores

**5 SOL NACIENTE**

El sol está en el oriente todas las mañanas y en el occidente todas las tardes. Sabiendo eso, es posible orientarse. Los arquitectos usan este conocimiento para colocar las ventanas de las casas de tal forma que puedan aprovechar mejor la luz y el calor del sol, para iluminar y calentar los lugares. En tierra caliente se procura que haya sombra en los sitios donde se trabaja; en tierra fría se busca que caliente el sol. Para planear la ocupación de un espacio y aprovechar la luz y el calor del sol es conveniente diseñar el plano, según el clima de la región, de acuerdo con el oriente y el occidente del lugar.

Responde de la pregunta:

¿El sitio por donde el sol nace se llama?

- A. Sur
- B. Norte
- C. Oriente**
- D. En las montañas

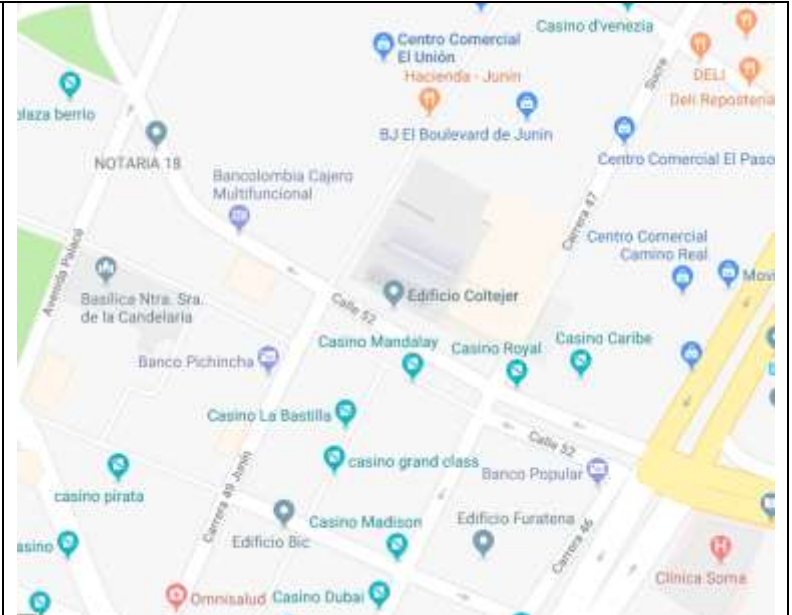
6. El sol está en el oriente todas las mañanas y en el occidente todas las tardes. Sabiendo eso, es posible orientarse. Los arquitectos usan este conocimiento para colocar las ventanas de las casas de tal forma que puedan aprovechar mejor la luz y el calor del sol, para iluminar y calentar los lugares.

Responde de la pregunta:

¿El sitio por donde el sol se oculta se llama?:

- A. Los puntos cardinales
- B. Norte
- C. Sur
- D. Occidente**

7.



¿Cerca de qué avenida se encuentra la Basílica de la Candelaria?:

- A. Calle 46
- B. Sucre
- C. Av. Oriental
- D. Avenida Palacé**

**15 UBICACIÓN GEOGRÁFICA**

¿En Qué parte de continente Americano se ubica Colombia?:

- A. Centro américa
- B. Suramérica**
- C. Europa
- D. Norte américa

**16. UBICACIÓN GEOGRÁFICA**

¿Cuál es la capital del departamento de Cundinamarca?

- A. Bogotá**
- B. Medellín
- C. Neiva
- D. Cali

**17. UBICACIÓN GEOGRÁFICA**



¿Cuántos departamentos tiene Colombia?

- A. 35
- B. 23
- C. 45
- D. 32**

**18. UBICACIÓN GEOGRÁFICA**

¿A qué departamento pertenece el municipio de Medellín?

- A. Suramérica
- B. Colombia
- C. Bello
- D. Antioquia**

	<b>INSTITUCIÓN EDUCATIVA HÉCTOR ABAD GÓMEZ</b>		
	Proceso: GESTION CURRICULAR	Código	
Nombre del Documento: Prueba de periodo		Versión 01	Página 3 de 4

Las direcciones o puntos cardinales son:

- A. calles y carreras
- B. Avenidas, ciudades
- C. Norte, sur, oriente, occidente**
- D. sur y norte

8.

La brújula es un artefacto para::

- A. Para ubicarse en el espacio y viajar largas distancias por mar, tierra y aire**
- B. Medir temperatura
- C. Saber el nivel del mar
- D. Realizar planos

9

**La MAQUETA y los PLANOS** son una herramienta **para** la reproducción de un monumento, edificio u otra construcción (reales o proyectados) hecha a escala en tamaño reducido para mostrar los diferentes espacios de un lugar, es utilizado por arquitectos e ingenieros para validar las expectativas de proyectos de construcción y venderlos. Tanto la maqueta como el plano representan a escala las dimensiones reales de un espacio u objeto. La maqueta es una representación en tres dimensiones y el plano en solo dos.



Acorde al texto responde

¿La maqueta sirve para?:

- A. Hacer una escuela
- B. Vender un carro
- C. Representar en tamaño reducido los espacios de un lugar**
- D. Ninguna de las anteriores

10

**La MAQUETA y los PLANOS** son una herramienta **para** la reproducción de un monumento, edificio u otra construcción (reales o proyectados) hecha a escala en tamaño reducido para mostrar los diferentes espacios de un lugar, es utilizado por arquitectos y constructores para validar las expectativas de proyectos de construcción y venderlos. Tanto la maqueta como el plano representan a escala las dimensiones reales de

19.

El alcalde del municipio de Medellín se llama:

- A. Sergio Fajardo Valderrama
- B. Alonso Salazar
- C. Jorge Robledo
- D. Federico Gutiérrez**

20.

¿El actual presidente de Colombia se llama?

- A. Andrés pastrana
- B. Juan Manuel santos
- C. Gustavo Petro
- D. Iván Duque**

21.

¿Qué encontramos en la zona rural?

- A. Zona de cultivos, criadero de animales, Bosques**
- B. Avenidas, calles, edificios
- C. Aeropuerto, zonas verdes, vehículos
- D. semáforos, circunvalar, centros comerciales

22.

¿Qué es característico de la zona urbana?

- A. Zona de cultivos, criadero de animales
- B. Vacas, campesinos,
- C. Aeropuerto, vehículos, semáforos, calles**
- D. Ninguna de las anteriores

23.

### EL TRABAJO

“El trabajo es un derecho y una obligación social, y goza, en todas sus modalidades, de la especial protección del Estado. Toda persona tiene derecho a un trabajo en condiciones dignas y justas”. Artículo 25. Constitución Política de Colombia. Muchos países del mundo atraviesan en la actualidad por graves crisis económicas que se han traducido en altos índices de desempleo, pobreza y miseria, lo que ha generado un deterioro en las condiciones de vida de muchas personas, familias y comunidades enteras

¿Qué consecuencia puede traer el desempleo en una familia?:



- A. Disminuye la calidad de vida de las personas del hogar**
- B. Se tienen más ingresos económicos
- C. Se generan más compras para la familia
- D. Ninguna de las anteriores

24.

### EL TRABAJO

“El trabajo es un derecho y una obligación social, y goza, en todas sus modalidades, de la especial protección del Estado. Toda persona tiene derecho a un trabajo en condiciones dignas y justas”. Artículo 25. Constitución Política de Colombia. Muchos países del mundo atraviesan en la actualidad por graves crisis económicas que se han traducido en altos índices de desempleo, pobreza y miseria, lo que ha generado un deterioro en las condiciones de vida de muchas personas, familias y comunidades enteras

¿La obligación social del trabajo debe ser protegida

	<b>INSTITUCIÓN EDUCATIVA HÉCTOR ABAD GÓMEZ</b>		
	Proceso: GESTION CURRICULAR	Código	
Nombre del Documento: Prueba de periodo		Versión 01	Página 4 de 4

un espacio u objeto. La maqueta es una representación en tres dimensiones y el plano en solo dos.

¿Quiénes hacen mayor uso de los planos y las maquetas?

A. Los conductores  
 B. Estudiantes  
 C. Docentes, Médicos  
**D. Arquitectos, Constructores**

11.

**La MAQUETA y los PLANOS** son una herramienta **para** la reproducción de un monumento, edificio u otra construcción (reales o proyectados) hecha a escala en tamaño reducido para mostrar los diferentes espacios de un lugar, es utilizado por arquitectos y constructores para validar las expectativas de proyectos de construcción y venderlos. Tanto la maqueta como el plano representan a escala las dimensiones reales de un espacio u objeto. La maqueta es una representación en tres dimensiones y el plano en solo dos.

¿En cuántas dimensiones se representa una maqueta?

A. una  
**B. Tres**  
 C. Dos  
 D. Ninguna de las anteriores

especialmente por?:

A. La familia  
**B. El estado**  
 C. El colegio  
 D. Los docentes

25.

**EL TRABAJO**

“El trabajo es un derecho y una obligación social, y goza, en todas sus modalidades, de la especial protección del Estado. Toda persona tiene derecho a un trabajo en condiciones dignas y justas”. Artículo 25. Constitución Política de Colombia. Muchos países del mundo atraviesan en la actualidad por graves crisis económicas que se han traducido en altos índices de desempleo, pobreza y miseria, lo que ha generado un deterioro en las condiciones de vida de muchas personas, familias y comunidades enteras

¿Dónde se encuentra constituido legalmente el derecho al trabajo?:

A. Manual de convivencia del colegio  
**B. Constitución política de Colombia**  
 C. Módulo 3 de aceleración  
 D. Ninguna de las anteriores